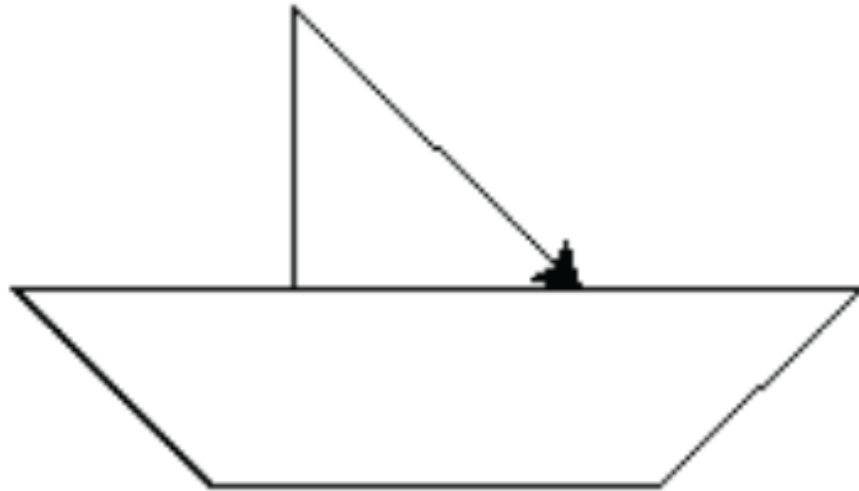


# Koordinatna grafika

Zadaci - vježba

# 1. zadatak

Nacrtaj brod što sličniji slici. Slika ti služi samo kao primjer. Dodaj na brod plave okrugle prozore.




## 2. zadatak

Napišite program koji crta olimpijske krugove kao na slici.




### 3. zadatak

Napišite program koji crta barem 5 raznobojnih koncentričnih kružnica kao na slici.



## 4. zadatak

U kvadrat stranice  $a$  upišite kvadrat kojem su vrhovi polovišta stranica prvog kvadrata. Postupak se nastavlja sve dok je stranica kvadrata veća od 20. Odredite zbroj svih površina tako dobivenih kvadrata.



## 5. zadatak

Koristeći funkciju za crtanje kruga nacrtajte sliku što sličniju primjeru.

